

- 1 選考区分 一般選考
- 2 該当志願区分及び教科（科目等） 高等学校 工業（共通問題）
- 3 該当試験 教科専門
- 4 該当問題 第4問（1） 図1

4 以下の(1)、(2)の各問いに答えよ。[(1)完答4点、(2)各2点]

(1) 図1の流れ図で、 $P = 4$ 、 $Q = -6$ を入力したとき、出力される P と Q の値をそれぞれ求めよ。

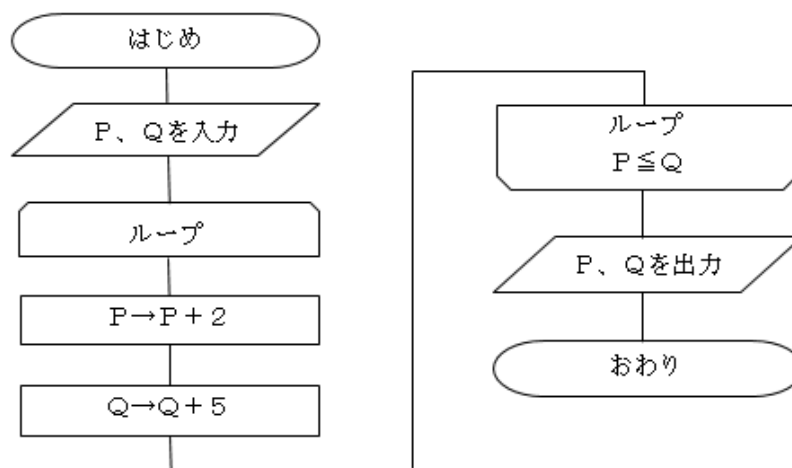
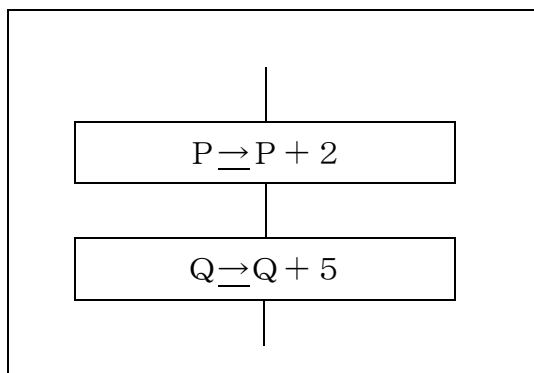


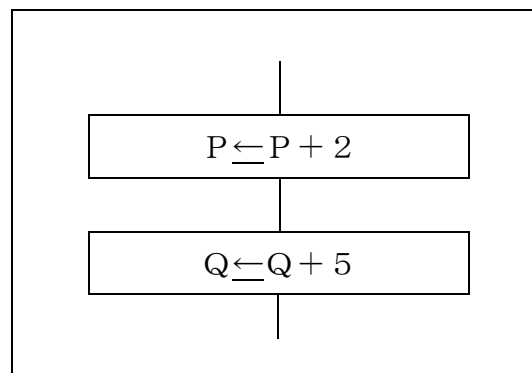
図1

(2) 略

【誤】



【正】



[誤りの内容]

「プログラムの流れ図を利用して数値を計算する問題」において、流れ図中の矢印の方向に誤りがあったため、正答が導けない問題となっていた。

- 5 対応
- 第4問（1）については、全員正答とする。

※ 完答4点 / 200点満点中